



موسسه آموزشی راه تازه کودکان دنیا

آمادگی و دبستان دخترانه غیردولتی

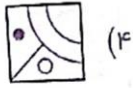
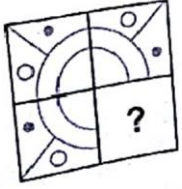
سرگوداش نو

نام و نام خانوادگی:

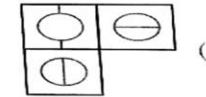
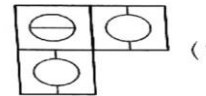
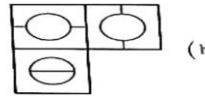
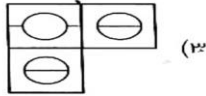
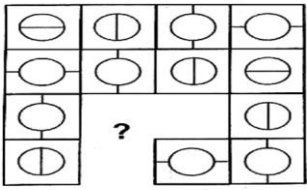
استعداد تحلیلی

پایه پنجم

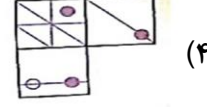
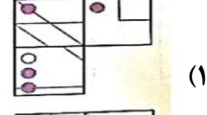
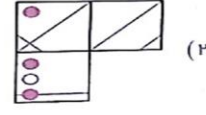
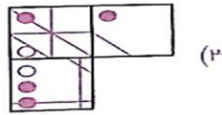
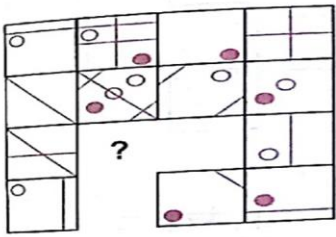
۱- در هریک از سوالات زیر، کدام گزینه شکل را کامل می کند؟



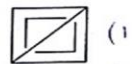

۲-



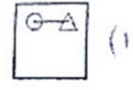
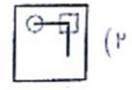
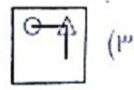
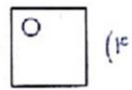
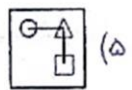
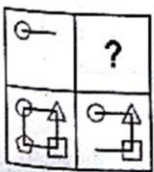
۳-



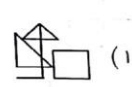
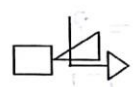
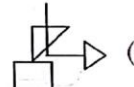
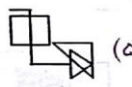

۴-



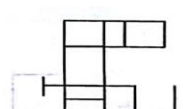
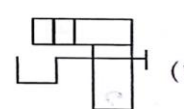
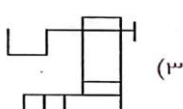
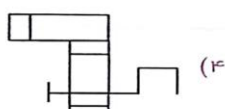
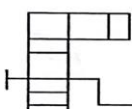
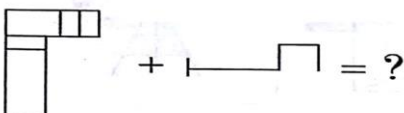
۵-

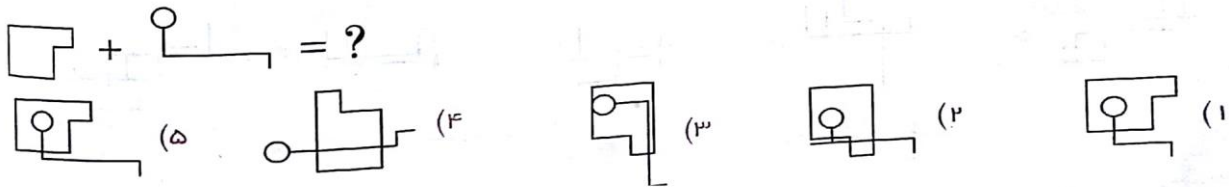
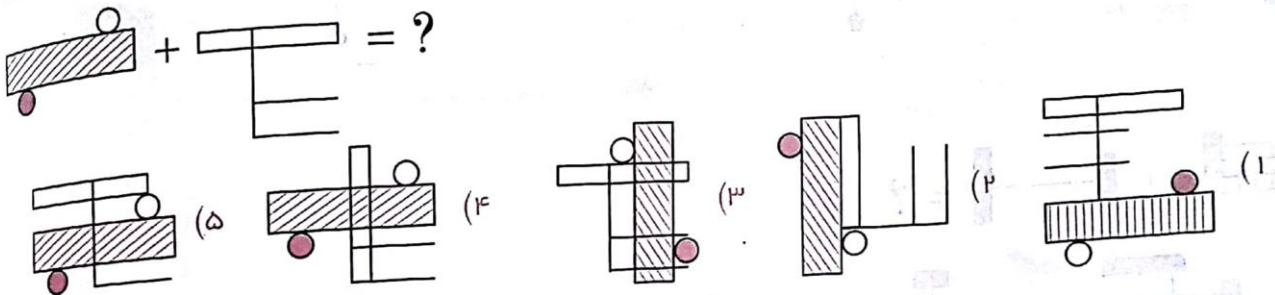

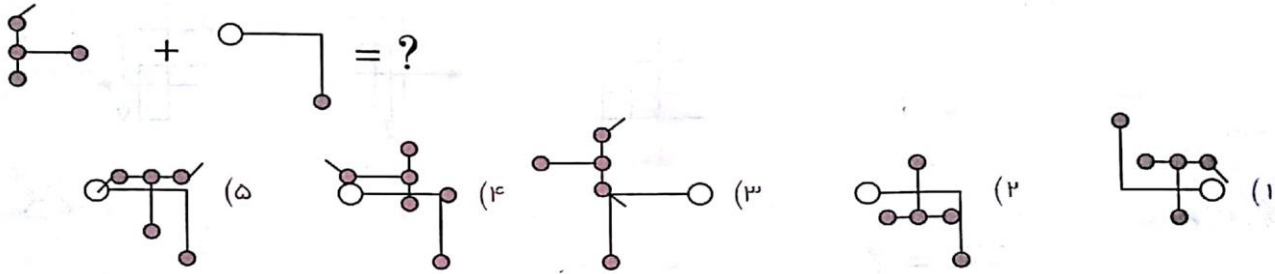
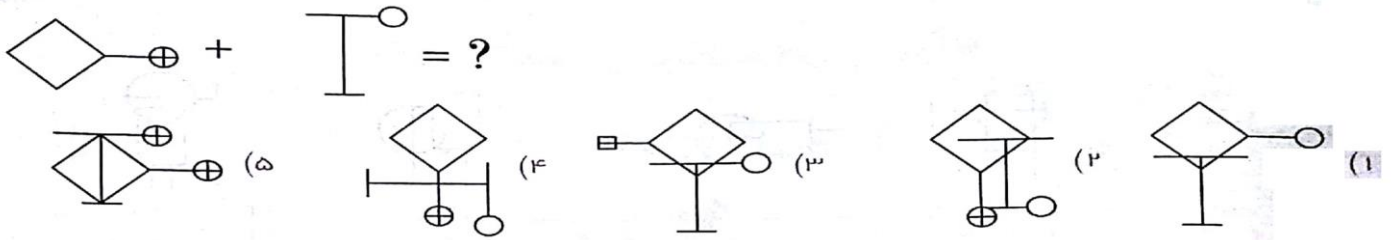


۶- در هریک از سوالات زیر، از ترکیب دو شکل سمت چپ، کدامیک از اشکال به وجود می آید؟




۷-





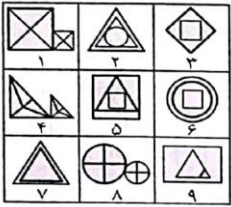
۱۳- کدام طبقه بندی برای هر دسته از اشکال زیر مناسب تر است؟



۱, ۵, ۶ ; ۲, ۴, ۸ ; ۳, ۷, ۹ (۲)
 ۱, ۲, ۷ ; ۳, ۵, ۹ ; ۴, ۶, ۸ (۴)

۳, ۴, ۹ ; ۵, ۷, ۸ ; ۱, ۲, ۶ (۱)
 ۴, ۶, ۸ ; ۳, ۵, ۷ ; ۱, ۲, ۹ (۳)

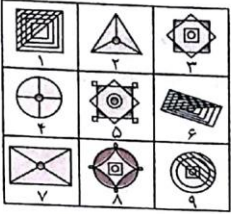
-۱۴



۱, ۴, ۶ ; ۲, ۵, ۷ ; ۳, ۸, ۹ (۲)
 ۱, ۴, ۸ ; ۲, ۷, ۹ ; ۳, ۵, ۶ (۴)

۱, ۳, ۷ ; ۲, ۴, ۶ ; ۵, ۸, ۹ (۱)
 ۱, ۴, ۸ ; ۲, ۵, ۶ ; ۳, ۷, ۹ (۳)

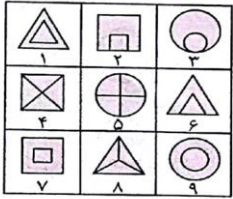
-۱۵



۱, ۳, ۵ ; ۲, ۶, ۷ ; ۴, ۸, ۹ (۲)
 ۱, ۳, ۵ ; ۲, ۴, ۷ ; ۶, ۸, ۹ (۴)

۲, ۴, ۷ ; ۱, ۶, ۹ ; ۳, ۵, ۸ (۱)
 ۱, ۵, ۷ ; ۲, ۳, ۶ ; ۴, ۸, ۹ (۳)

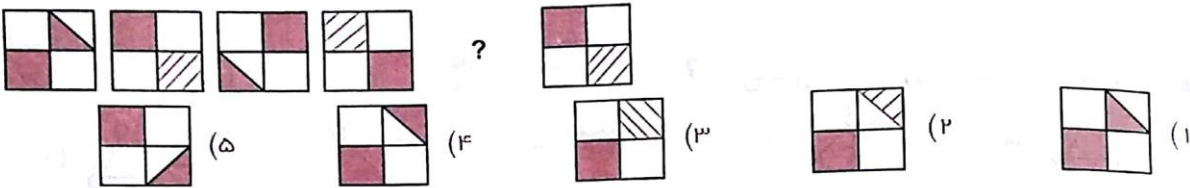
-۱۶



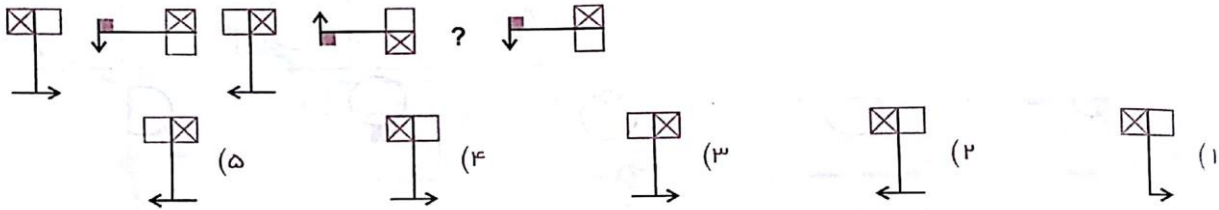
۱, ۲, ۹ ; ۳, ۴, ۶ ; ۵, ۷, ۸ (۲)
 ۱, ۷, ۸ ; ۲, ۹, ۳ ; ۶, ۴, ۵ (۴)

۱, ۷, ۹ ; ۲, ۳, ۶ ; ۴, ۵, ۸ (۱)
 ۱, ۶, ۸ ; ۲, ۴, ۷ ; ۳, ۵, ۹ (۳)

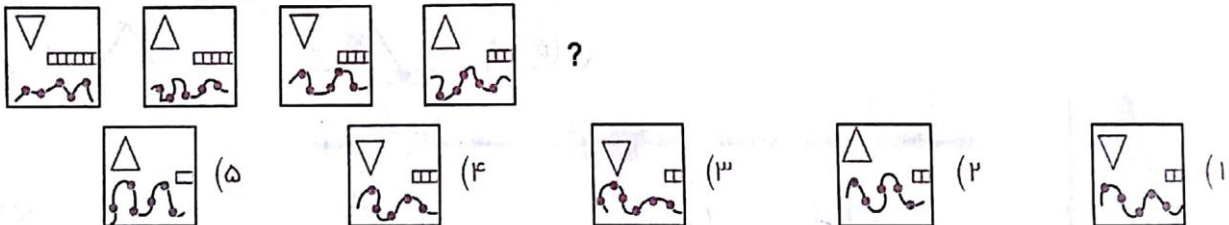
۱۷- در هر یک از سوالات زیر، با توجه به الگوی اشکال ردیف بالا، کدام یک از اشکال ردیف پایین را باید انتخاب کرد؟



-۱۸



-۱۹



-۲۰

